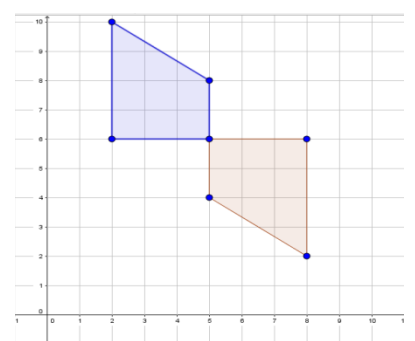
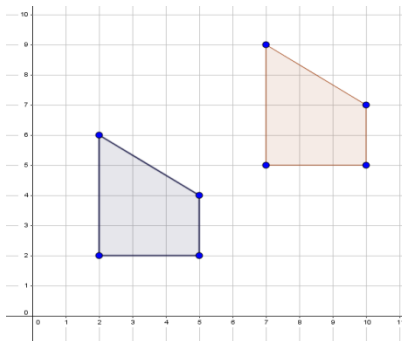
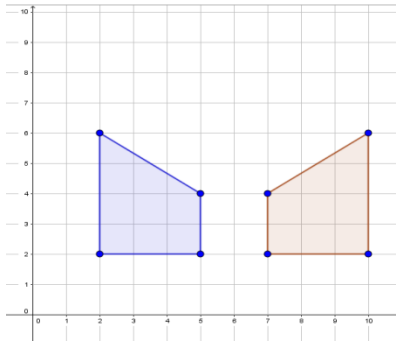


TALLER – PLANO CARTESIANO

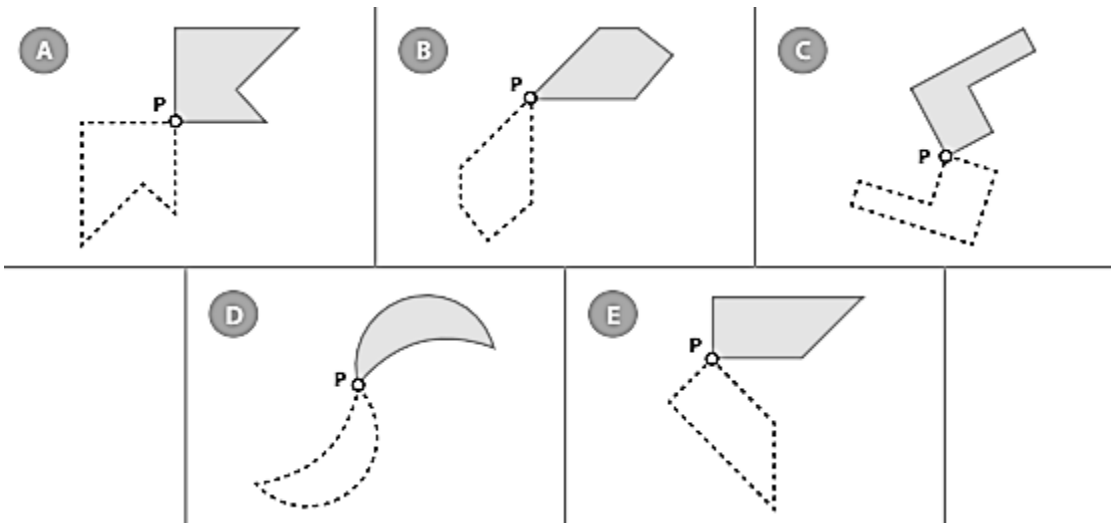
1. Ubicación de puntos en el plano cartesiano. Resuelve la siguiente actividad y al finalizar, toma una captura y pégala en el espacio asignado <https://www.thatquiz.org/es-7/?-j48-l5-mpnv600-nu-p0>
2. Resuelve la siguiente actividad y al finalizar seleccionas “terminado” y luego “comprobar mis respuestas”. Recuerda tomar una captura de tus resultados y pegarlo en la tabla:
https://es.liveworksheets.com/worksheets/es/Matem%C3%A1ticas/Plano_cartesiano/Plano_cartesiano_ed979646xb

3. Escribe debajo de cada plano el movimiento que se realizó sobre la figura



--	--	--

4. Observa las siguientes imágenes y selecciona la que al ser rotada en el punto P pueden ocupar la posición de la figura con el contorno punteado.



5. Frente a cada figura escribe el nombre del movimiento que se realizó

FIGURA	MOVIMIENTO
